



第二单元综合测试卷



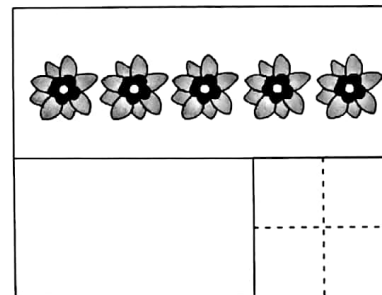
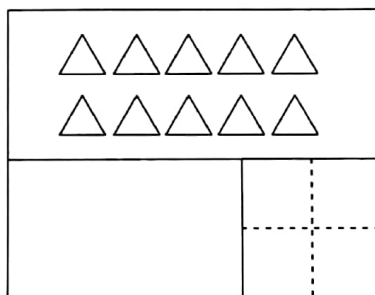
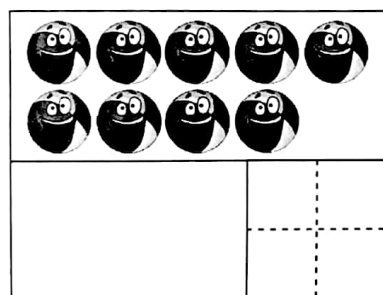
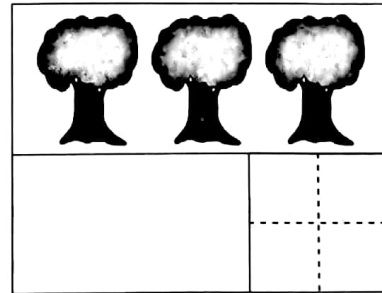
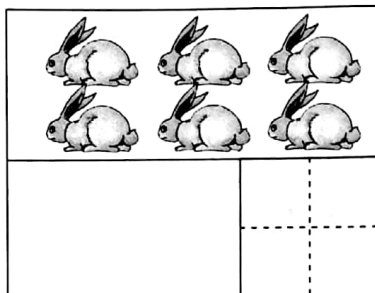

时间：60分钟

满分：100分

题号	一	二	三	四	五	六	七	八	总分
得分									

wǒ huì zhào yàng zi huà bìng xiě shù

一、我会照样子画○并写数。(10分)



wǒ huì lián

二、我会连。(10分)



1

2

3

4

5

6

7

8

9

10



三、想一想，选一选。(9分)

1. 在比7小且比3大的数的下面画“√”。

0	4	8	10
()	()	()	()

2. 在比5大且比8小的数的下面画“○”。

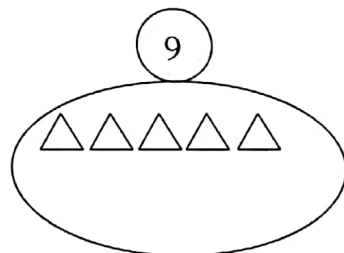
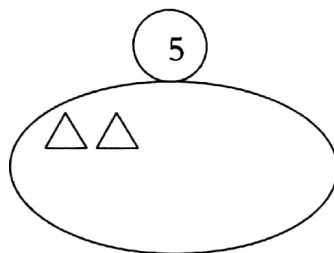
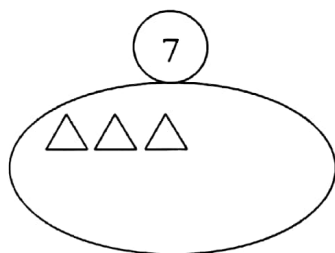
1	5	7	10
()	()	()	()

3. 在比8大且比10小的数的下面画“□”。


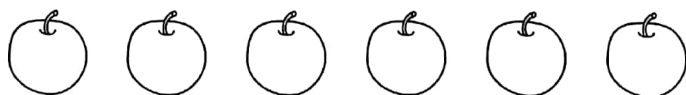

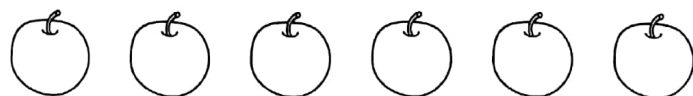
2	6	8	9
()	()	()	()

四、画一画，涂一涂。(15分)

1. 接着画。(9分)



2. 涂一涂。(6分)

(1) 从左数，把第3个  涂上红色。(2) 从右数，把第3个  涂上绿色。

zài lǐ tiánshàng huò
五、在○里填上“>”“<”或“=”。(12分)

$5 \bigcirc 3$

$2 \bigcirc 7$

$1 \bigcirc 1$

$7 \bigcirc 9$

$0 \bigcirc 10$

$4 \bigcirc 6$

$8 \bigcirc 10$

$5 \bigcirc 1$

$7 \bigcirc 8$

$2 \bigcirc 0$

$10 \bigcirc 10$

$9 \bigcirc 6$

bǐ yì bǐ tián yì tián
六、比一比，填一填。(12分)



$3 \bigcirc 4$



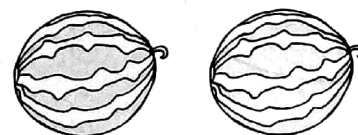
$\square \bigcirc \square$



$\square \bigcirc \square$



$\square \bigcirc \square$



$\square \bigcirc \square$



pái yì pái
七、排一排。(10分)



明明



天天



红红



兰兰



丽丽



平平



亮亮



芳芳



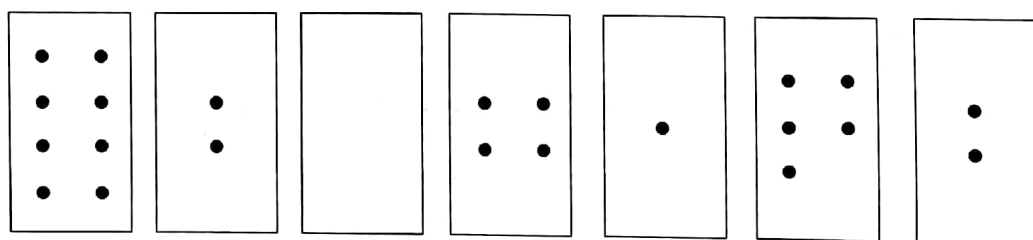
1. 一共有()个小朋友。
2. 从右边数兰兰排在第(),从左边数兰兰排在第()。
3. 丽丽左边有()个人,右边有()个人。
4. 从右边数数红红排在第(),从左边数他排在第()。
5. 平平的左边有()个人,右边有()个人。
6. 小朋友中,男生人数和女生人数比较:()(填“男生多”“女生多”或“一样多”)

qù wèi shù xué

八、趣味数学。(16分)

1. 小朋友们排队去公园,小华前面有4个人,后面有5个人,从前往后数,小华排在第几个?一共有多少个小朋友?

2. 根据卡片的顺序,用数字写出小杰家的电话号码。



号码是: _____

